

Economia

Primer Parcial

1) El estudio de la Economía sólo se justifica en los países más pobres. **Justificar ampliamente si es Verdadero o Falso.**

2) Los mercados imperfectos operan en:
Seleccione solo **UNA** opción correcta.

Selecciona una:

- a. En Ineficacia económica, pero eficacia técnica.
- b. Eficacia económica y técnica.
- c. En ineficacia, por eso constituyen una falla de mercado

3) Indique cuáles de las siguientes proposiciones son correctas: (son **dos**)

Seleccione una o más de una:

- a. Un sistema económico donde la coordinación de la actividad económica se realiza a través del mercado es siempre capitalista.
- b. Un bien público es aquel que no puede excluirse a la población de su consumo, independientemente de quien pague por él y, por otro lado, el consumo por parte de un individuo no reduce la cantidad disponible para otro individuo.
- c. Un bien es libre porque puede utilizarse sin renunciar a otro bien.
- d. La tecnología permitirá solucionar el problema de la escasez.
- e. La expresión “medios escasos” no quiere decir que sean pocos, sino que nuestras posibilidades de utilizar estos recursos están limitadas.
- f. La escasez es un término relativo porque solo afecta a las economías menos desarrolladas.

4) En un mercado Oligopólico, una de las característica centrales es:
Seleccione solo **UNA** opción correcta.

Selecciona una:

- a. La interdependencia estratégica entre oferentes, la conducta de uno de infiere en la toma de decisiones de los demás.
- b. La homogeneidad del producto y la información perfecta.
- c. La discriminación de precios.
- d. La realización de publicidad para obtener una mayor proporción del mercado.

5) Dada la situación de pandemia que estamos viviendo, el coeficiente de elasticidad precio de la lavandina es 0,7 y por ello, el aumento del precio del 15% que se provoca por la presión de demanda provocará que lo que gastamos en lavandina por mes

aumenta respecto a la situación anterior. **Justifique ampliamente por qué es verdadero.** (Relacione elasticidad precio de la demanda y gasto o ingreso total)

6) Suponga que en una economía sólo se producen dos bienes: hoteles y bares, con las siguientes combinaciones, conteste

¿Cuál sería el costo de oportunidad de producir una cantidad adicional de hoteles en términos de bares? Seleccione solo **UNA** opción correcta.

Hoteles	Bares
0	9
1	6
2	3
3	0

Selecciona una:

- a. 3 unidades de bares.
- b. 6 unidades de bares.
- c. 9 unidades de bares.
- d. Una unidad de bares.

7) Los criterios que se utilizan para determinar la estructura de un mercados son todos excepto **UNO**:

Selecciona una:

- a. Existencia o no de barreras a la entrada.
- b. Tipo de bien.
- c. Disponibilidad de Información.
- d. Localización.
- e. Cantidad de oferentes y demandantes.

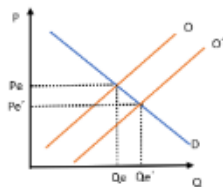
8) Dado el mercado de alcohol en gel. La aparición del virus COVID-19 presiona la demanda de este bien y esto ¿generará efectos sobre el precio y la cantidad de equilibrio? Seleccione solo **UNA** opción.

Selecciona una:

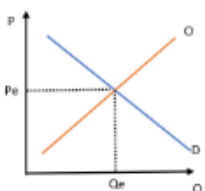
- a. No se modifican ni el precio ni la cantidad de equilibrio.
- b. Baja el precio de equilibrio y sube la cantidad de equilibrio.
- c. Sube el precio de equilibrio y sube la cantidad de equilibrio.
- d. Baja el precio de equilibrio y baja la cantidad de equilibrio.
- e. Sube el precio de equilibrio y baja la cantidad de equilibrio.

9) Dado el mercado de alcohol en gel. ¿En cuál de los siguientes gráficos se visualizan los efectos que sobre la oferta tiene la aparición del virus COVID-19? Seleccione solo **UNA** opción.

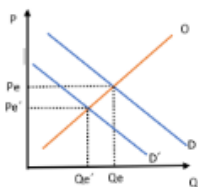
Selecciona una:



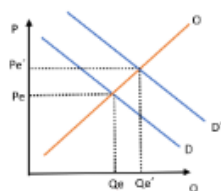
O a.



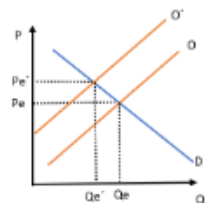
O b.



O c.



O d.



O e.

10) Conteste: ¿Qué se entiende por "Poder de Mercado"? ¿Qué implicancias tiene? ¿Cuáles son las condiciones que tienen que existir para tener Poder de Mercado? Explique su importancia.

11) ¿Cuál de las siguientes **NO** es una característica de un mercado de competencia perfecta? Marque **UNA** opción.

Selecciona una:

- a. Bienes diferenciados
- b. Libre entrada y salida del mercado.
- c. Muchas empresas oferentes y pequeñas.
- d. Información perfecta.

12) Explique por qué las externalidades constituyen una falla de mercado y cómo se pueden corregir.

13) Selecciones solo UNA opción.

¿Cuál de las siguientes expresiones es correcta?

Selecciona una:

- a. Todas son correctas.
- b. La distribución funcional de la renta clasifica al ingreso según el factor de producción del cual proviene.
- c. La distribución personal de la renta clasifica al ingreso según la porción que recibe cada individuo sin atender a sus fuentes.
- d. La teoría de la distribución de la renta se interesa por la fracción de la renta que va a parar a cada individuo o grupo particular.
- e. Ninguna es correcta.

14) Seleccione solo UNA opción correcta.

La curva de Lorenz mide las diferencias en la:

Selecciona una:

- a. Parte proporcional de la renta que se apropian los factores de producción.
- b. Distribución personal de la renta.
- c. Relación entre los ingresos de los trabajadores.
- d. Distribución funcional de la renta.

15) La expresión: "También el fuerte aumento de los combustibles impacta de manera indirecta en los costos de producción del sector debido a la incidencia que tiene el transporte en la logística general de la actividad y el reparto de mercadería a las panaderías"... Señale solo UNA opción correcta.

Selecciona una:

- a. Se trata de una proposición positiva.
- b. La industria de pan como actividad económica corresponde a la de Consumo.
- c. Se trata de una proposición referida a la macroeconomía.

- d. La producción de combustibles pertenece al sector Terciario.

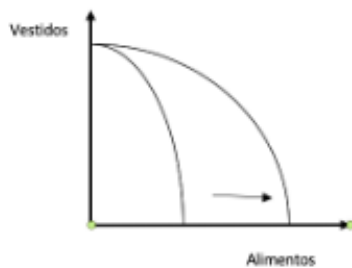
16) Señale la ÚNICA opción INCORRECTA:

Selecciona una:

- a. La curva de oferta de carne vacuna en Liniers se desplazará a la izquierda si aumenta el precio del gasoil.
- b. Un aumento en el precio de un bien provoca un cambio en la cantidad ofrecida de dicho bien, ceteris paribus.
- c. La cantidad demandada de un bien es aquella que los consumidores efectivamente compran.
- d. Un bien inferior es aquel cuya demanda se desplaza a la izquierda al aumentar el ingreso del consumidor.

17) Un traslado en la curva de posibilidades de producción como el que se muestra en la figura indica que:

Señale **UNA** opción



Selecciona una:

- a. Existe un mejoramiento en la tecnología de producción de vestidos.
- b. Existe un mejoramiento en la tecnología de producción de alimentos.
- c. Existe un cambio en las preferencias de los consumidores desde los vestidos hacia los alimentos.
- d. Existe un incremento en la cantidad de máquinas de coser.

18) El modelo de flujo circular del ingreso de una economía derrochadora muestra cómo los pagos influyen desde la economías domésticas a las empresas y de éstas últimas a los consumidores.

Seleccione solo **UNA** opción.

Selecciona una:

- a. Falso: Las empresas no pagan a los consumidores.

- b. Verdadero: Las empresas retribuyen a los factores productivos pertenecientes a las unidades domésticas y estas demandan bienes y servicios por los cuales deben pagar.
- c. Verdadero: Los flujos entre consumidores y empresas son exclusivamente monetarios.

19) Juan es invitado a pasar un fin de semana gratis a Sierra de la Ventana a cambio de realizar una serie de charlas sobre Derecho Económico. **Como la estancia es gratuita, el costo de oportunidad es cero. Justifique si esta afirmación es Verdadera o Falsa.**

20) Dado el mercado de alcohol en gel en Bahía Blanca. La aparición del virus COVID-19 provocó: (señale las **DOS** opciones correctas)

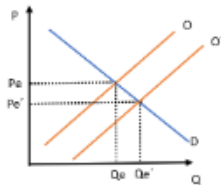
Seleccione una o más de una:

- a. Un aumento en la demanda de alcohol en gel.
- b. Un desplazamiento de la curva de demanda a la derecha.
- c. Un aumento en la cantidad demandada de alcohol en gel.
- d. Un desplazamiento de la curva de demanda a la izquierda.
- e. Una disminución en la demanda de alcohol en gel.
- f. Una disminución en la cantidad demandada de gel.
- g. La curva de demanda de alcohol en gel no se modifica.

RESPUESTAS:

Las que son a desarrollar van a ser mis respuestas y cuál fue el comentario de la profesora sobre ellos.

- 1) Falso
- 2) c. En ineficacia, por eso constituyen una falla de mercado.
- 3) b. Un bien público puro es aquel que no puede excluirse a la población de su consumo, independientemente de quién pague por él y, por el otro lado, el consumo por parte del individuo no reduce la cantidad disponible para otro individuo.
c. Un bien es libre porque puede utilizarse sin renunciar a otro bien.
- 4) a. La interdependencia estratégica entre los oferentes, la conducta de uno interfiere en la toma de decisiones de los demás.
- 5) Pregunta de desarrollo.
- 6) a. 3 unidades de bares.
- 7) d. Localización
- 8) c. Sube el precio de equilibrio y sube la cantidad de equilibrio.



- 9) a.
- 10) Pregunta de desarrollo.
- 11)a. Bienes diferenciados
- 12) Pregunta de desarrollo.
- 13)a. Todas son correctas.
- 14)b. Distribución personal de la renta
- 15)a. Se trata de una posición positiva.
- 16)c. La cantidad demandada de un bien es aquella que los consumidores efectivamente compran.
- 17)b. Existe un mejoramiento en la tecnología en la producción de alimentos.
- 18)b. Verdadero: Las empresas retribuyen a los factores productivos pertenecientes a las unidades domésticas y estas demandan bienes y servicios por los cuales deben pagar.
- 19)Falso
- 20)a. Un aumento en la demanda de alcohol en gel.
b. Un desplazamiento de la curva de demanda a la derecha.

Segundo Parcial

- 1) El período que transcurre entre que un trabajador abandona su trabajo y encuentra el empleo que deseaba, se llama desempleo:
Marque la **única** opción correcta.

Seleccione una:

- a. Estacional.
- b. Cíclico.
- c. Friccional.
- d. Laboral.
- e. Estructural.

- 2) Indique cuál de las siguientes opciones es correcta. Marque solo **una** opción.
El establecimiento de cupos de contingentes reduce la cantidad importada porque:

Seleccione una:

- a. Se limita la cantidad de bienes que pueden importarse.
- b. Disminuye el precio de las importaciones.
- c. Incrementa el precio de las importaciones.
- d. Reduce el precio de las exportaciones.

- 3) Cuanto mayor sea la tasa de encaje impuesta por el Banco Centra...:
Indique la **única** opción **CORRECTA**.

Seleccione una:

- a. La tasa de encaje no está involucrada en la expansión secundaria.
- b. Mayor será la expansión secundaria del dinero.
- c. Menor será la expansión secundaria del dinero.

- 4) Dado el siguiente cuadro macroeconómico del país "Argenlandia" para el año 2020 valorado a precios del mercado calcule (**demostrando como los halló**) los valores de:
- a) El producto bruto interno a precios de mercado.
 - b) El producto bruto nacional a costo de factores (hacerlo en 2 pasos).
 - c) La demanda agregada de este país.
 - d) La oferta agregada de este país.
 - e) Las exportaciones netas.

Demanda y oferta agregada	
Concepto	Valor
DEMANDA AGREGADA	
1. Consumo Privado (C)	448
2. Gasto Público (G)	85
3. Formación bruta de capital (I)	106
4. Importaciones (M)	96
5. Exportaciones (E)	82
6. Impuestos indirectos (Ti)	80
7. Subsidios (Sb)	20

8. Renta de los extranjeros en el país (RRE)	15
9. Renta de los nacionales en el extranjero (RRN)	5
OFERTA AGREGADA	
10.1. Agricultura	55
10.2. Industria construcción	165
10.3. Servicios	345

5) Señale la única opción *INCORRECTA*:

Seleccione una:

- a. Un cambio en el Gasto Público provoca una variación multiplicada en el nivel del producto interno.
- b. Un aumento en las exportaciones aumenta la oferta agregada.
- c. El coeficiente del multiplicador indica en cuánto cambia el producto por cada peso en que cambia la inversión (pública o privada).

6) El producto bruto interno se define como el valor monetario de:

Marque la **única** opción ***CORRECTA***.

Seleccione una:

- a. Los bienes y servicios producidos dentro del territorio nacional en un periodo de tiempo determinado.
- b. Ninguna de las opciones
- c. Los bienes y servicios finales producidos dentro del territorio nacional en un periodo de tiempo determinado, generalmente un año.
- d. Los bienes y servicios finales producidos por factores de la producción nacionales.

7) Si en Argentina se produce una “lluvia de inversiones extranjeras”, esto se verá reflejado en la Balanza de Pagos a partir de modificaciones en:

Marque la **única** opción correcta.

Seleccione una:

- a. Cuenta Corriente.
- b. Cuenta Capital.
- c. Cuenta Reservas.

8) Marque la única opción *CORRECTA*:

Si el sistema bancario obtiene \$100.000 en nuevos depósitos, ¿cuáles serán los depósitos finales después del proceso de expansión, si el coeficiente de encaje es de 0,25)

Seleccione una:

- a. \$125.000
- b. \$300.000

- c. \$400.000
- d. \$25.000

9) Para que haya inflación, el aumento en el nivel general de precios debe ser:

Seleccione una:

- a. Generalizado.
- b. Generalizado y sostenido.
- c. Sostenido.
- d. Consistente.
- e. Generalizado, consistente y sostenido.

10) Una magnitud expresada en términos reales:

Marque la **única** opción **CORRECTA**.

Seleccione una:

- a. No tiene eliminados los efectos de la variación en los precios.
- b. Tiene eliminadas las depreciaciones.
- c. Tiene eliminados los efectos de la variación en los precios.
- d. Está expresado a valores corrientes.

11) Justifique ¿por qué en Argentina si la autoridad monetaria pretende mejorar la competitividad del país en el comercio internacional deberá aumentar el tipo de cambio?

12) Señale la **única** opción **INCORRECTA**:

Seleccione una:

- a. En una economía cerrada la oferta agregada está dada por el valor del PBI
- b. En una economía cerrada con la intervención estatal la demanda agregada está dada por el consumo, la inversión y el gasto público
- c. Cuando al valor de la inversión bruta se le suma la depreciación se obtiene la inversión neta.

13) Indique la relación correcta que existe entre tasa de interés y demanda de dinero:

Marque la **única** opción correcta.

Seleccione una:

- a. La demanda del dinero es independiente de la tasa de interés
- b. Cuanto mayor es la tasa de interés, menor es la cantidad demandada de dinero.
- c. Cuanto mayor es la tasa de interés, mayor es la demanda de dinero.
- d. Cuanto mayor es la tasa de interés, mayor es la cantidad demandada de dinero.
- e. Cuanto mayor es la tasa de interés, menor es la demanda de dinero.

- 14) a) Defina oferta de dinero.
b) Diferencie entre creación primaria y secundaria de dinero.
c) Explique si la siguiente proposición es verdadera o falsa: “Los bancos comerciales tienen el poder de creación de dinero en un sistema de nacionalización de depósitos”.

- 15) Una política fiscal expansiva:
Señale la **única** opción correcta.

Seleccione una:

- a. Se da cuando el Gobierno aumenta los impuestos y/o baja el Gasto Público
- b. Tiene efectos posibles negativos sobre la producción y el empleo
- c. Genera una disminución en la Demanda Agregada
- d. Se da cuando el gobierno disminuye los impuestos y/o sube el Gasto Público

- 16) Señale la **única** opción **INCORRECTA**:

Seleccione una:

- a. Las magnitudes agregadas tienen el carácter de suma o promedio
- b. El Estado siempre puede manipular los instrumentos de política económica para que lo afecten sólo al objetivo macroeconómico que intenta lograr
- c. Un instrumento de política económica es una variable económica que el gobierno puede controlar en forma directa o indirecta.

- 17) ¿Cuáles de las siguientes proposiciones son Verdaderas?

Seleccione las **DOS** opciones correctas.

Seleccione una o más de una:

- a. En **Argentina**, como en la mayoría de los países, el tipo de cambio expresa el precio en unidades monetarias extranjeras de una unidad de moneda nacional
- b. El cierre de empresas informales (“en negro”) por parte de la AFIP reducirá el PBI
- c. Cuanto mayor sea la tasa de interés menor será la cantidad demandada de dinero por motivo de “especulación”
- d. Las donaciones de bienes y oro no monetario provenientes del exterior se registran en la Balanza Comercial
- e. Un incremento en el nivel de los precios aumenta el P.B.I. a precios corrientes.

- 18) Señale la **única** opción **INCORRECTA**:

Seleccione una:

- a. El Valor Agregado es igual al valor de las remuneraciones a los asalariados
- b. El Valor agregado constituye todos los gastos en que incurren las empresas para poder transformar a los insumos en otro bien, ya sea intermedio o final

- c. El PBI como corriente de ingresos implica la sumatoria de los valores agregados de cada uno de los sectores que componen la economía.

19) ¿Cuál de las siguientes políticas habría sido objetada por los mercantilistas?

Marque la **única** opción correcta.

Seleccione una:

- a. Restricción a las importaciones.
- b. Estímulo a las exportaciones.
- c. Libre comercio.
- d. Acumulación de oro por parte de su país.

20) Señale la **única** opción **CORRECTA**:

Seleccione una:

- a. Entre los factores de destrucción de la BM puede señalarse los déficit de la balanza de pagos.
- b. La expansión secundaria del dinero depende de la disposición del público a aceptar cheques.
- c. En un sistema de encaje fraccionario la creación de dinero resulta de una expansión primaria del dinero a cargo del Banco Central a través de la expansión de la base monetaria.

RESPUESTAS:

- 1) c. Friccional.
- 2) a. Se limita la cantidad de bienes que pueden importarse.
- 3) c. Menor será la expansión del dinero.
- 4) a) $PBI = C + I + G + (E - M) = 448 + 85 + 106 + (82 - 96) = 625$
b) $PBNcf = (PBI - Ti + Sb) - RRE + RRN = (625 - 80 + 20) - 15 + 5 = 555$
c) $DA = C + I + G + E = 448 + 85 + 106 + 82 = 721$
d) $OA = (PBI - Ti + Sb) + M = (625 - 80 + 20) + 96 = 661$
e) $EN = E - M = 82 - 96 = -14$
- 5) b. Un aumento en las exportaciones aumenta la oferta agregada
- 6) c. Los bienes y servicios finales producidos dentro del territorio nacional en un periodo determinado, generalmente un año.
- 7) b. Cuenta Capital
- 8) c. \$400.000
- 9) b. Generalizado y sostenido.
- 10) c. Tienen eliminados los efectos de la variación de precios.
- 11) Pregunta de desarrollo
- 12) c. Cuando el valor de la inversión bruta se le suma la depreciación se obtiene la inversión neta.
- 13) b. Cuánto mayor es la tasa de interés, menor es la cantidad demandada de dinero.
- 14) Pregunta de desarrollo.
- 15) d. Se da cuando el gobierno disminuye los impuestos y/o sube el Gasto Público.
- 16) b. El Estado siempre puede manipular los instrumentos de política económica para que afecten solo al objetivo macroeconómico que intenta lograr.
- 17) c. Cuanto mayor sea la tasa de interés menor será la cantidad demandada de dinero por motivo "especulación"
e. Un incremento en el nivel medio de precios aumenta el P.B.I. a precios corrientes.
- 18) a. El Valor Agregado es igual al valor de las remuneraciones a los asalariados.
- 19) c. Libre comercio.
- 20) a. Entre los factores de destrucción de la BM puede señalarse los déficit de la balanza de pagos.